



☆ Υπολογίζω με το μυαλό

Υπολογίζω και γράφω το αποτέλεσμα μέσα στο πλαίσιο

$8+5$

$9+7$

$6+7$

$7+4$

$9+8$

Βρίσκω και γράφω τον αριθμό μέσα στο πλαίσιο

3 μονάδες
και
2 δεκάδες

9 μονάδες
και
3 δεκάδες

5 μονάδες
και
5 δεκάδες

0 μονάδες
και
4 δεκάδες

3 δεκάδες

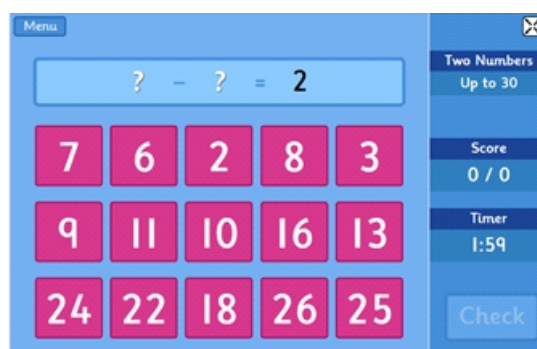
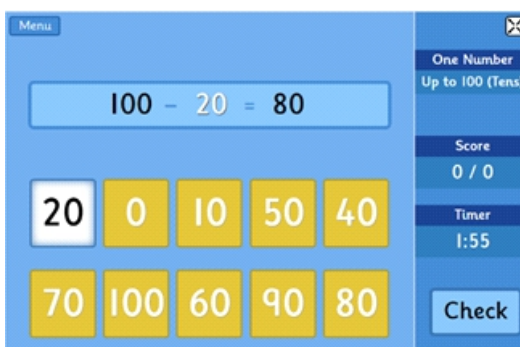
5 μονάδες
και
5 δεκάδες

☆ Παιχνίδια με μαθηματικά για κινητές συσκευές

1. Αφαιρέσεις

<https://www.topmarks.co.uk/maths-games/subtraction-grids>

Η εφαρμογή αυτή συμβάλλει, στην εξάσκηση της πράξης της αφαίρεσης. Επιλέγουμε το εύρος των αριθμών μέχρι το 10 και αν το παιδί ανταποκρίνεται με ευκολία, επιλέγουμε, και αριθμούς μέχρι το 20. Κάθε γύρος διαρκεί 2 λεπτά. Δίνεται μία αριθμητική παράσταση η οποία περιέχει την πράξη της αφαίρεσης, αλλά λείπει ένας αριθμός, είτε ο μειωτέος είτε ο αφαιρετέος. Ο μαθητής καλείται να βρει αυτό τον αριθμό. Επίσης, υπάρχει η επιλογή να λείπουν δύο αριθμοί από την παράσταση.

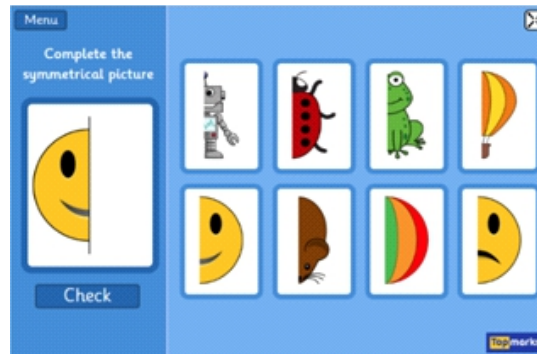
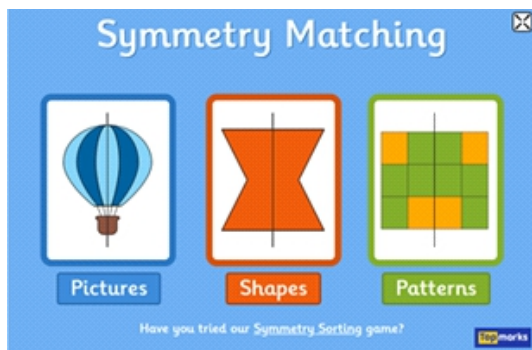




2. Συμμετρία

<https://www.topmarks.co.uk/symmetry/symmetry-matching>

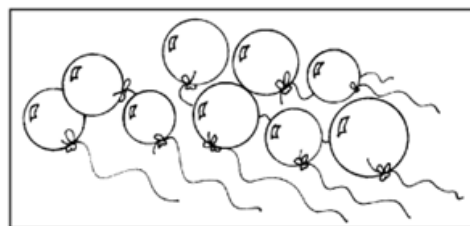
Με την εφαρμογή αυτή τα παιδιά ασκούνται στα συμμετρικά σχήματα. Αρχικά, έχουμε τη δυνατότητα να επιλέξουμε εικόνες, σχήματα ή μοτίβα. Έπειτα το παιδί καλείται να συμπληρώσει το συμμετρικό μοτίβο (εικόνα ή σχήμα) ανάμεσα από 8 προτεινόμενες περιπτώσεις που δίνονται.



★ Λύνω προβλήματα

1ο Πρόβλημα

Ο Λεωνίδας θέλει να μοιράσει τα μπαλόνια του πάρτι γενεθλίων του στους φίλους του. Έχει 9 μπαλόνια και 3 φίλους. Πιστεύει ότι πρέπει να δώσει 3 μπαλόνια σε κάθε φίλο του. Πώς μπορεί να ελέγξει αν είναι δίκαιος;



2ο Πρόβλημα

Ζωγραφίζω ένα σπίτι με έξι σχήματα. Ονομάζω τα σχήματα.