



☆ Υπολογίζω με το μυαλό

Υπολογίζω και γράφω το αποτέλεσμα μέσα στο πλαίσιο

$70 : 10$

$420 : 10$

$2.900 : 100$

$3.240 : 10$

$4.300 : 100$

Υπολογίζω και γράφω το αποτέλεσμα μέσα στο πλαίσιο

$48 : 12$

$77 : 11$

$240 : 12$

$400 : 20$

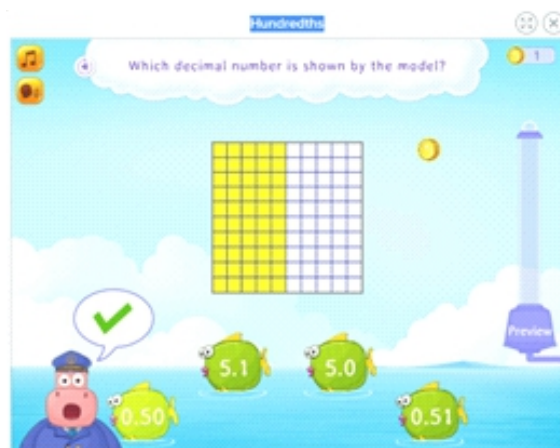
$36 : 18$

☆ Παιχνίδια με μαθηματικά για κινητές συσκευές

## 1. Δέκατα και Εκατοστά

<https://www.splashlearn.com/math-skills/third-grade/decimal/hundredths--2>


Η εφαρμογή αυτή αναπαριστά τους δεκαδικούς αριθμούς μέσα από ένα μοντέλο και ο μαθητής καλείται να αναγνωρίσει τον αριθμό αυτό.



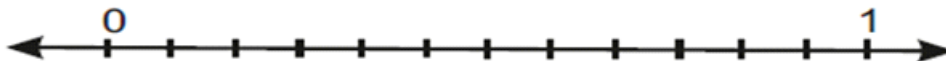
## 2. Αναγνωρίζω τα κλάσματα

[https://www.mathplayground.com/puzzle\\_pics\\_fractions.html](https://www.mathplayground.com/puzzle_pics_fractions.html)

Τοποθετήστε το κλάσμα στο τετράγωνο με την αριθμογραμμή που αντιστοιχεί σε αυτό. Συνεχίστε μέχρι να ολοκληρωθεί το παζλ και επαναλάβετε το ίδιο στη νέα δραστηριότητα.



Αφού εξασκηθήκατε στην παραπάνω δραστηριότητα, τοποθετήστε τα κλάσματα  $\frac{6}{12}$   $\frac{10}{12}$   $\frac{4}{6}$  στην αριθμογραμμή.



## ★ Λύνω προβλήματα

### 1ο Πρόβλημα

Η Νίκη έχει φυτέψει έναν ηλιόσπορο στον κήπο της. Ο ηλιόσπορος ψηλώνει 3 εκατοστά κάθε μέρα. Πόσα εκατοστά θα έχει μεγαλώσει σε 2 εβδομάδες;

### 2ο Πρόβλημα

Ο μικρός αδερφός της Γεωργίας σηκώνεται στις 6 ακριβώς το πρωί. Για μεσημέρι κοιμάται από τις 12 έως τη 1:30 μ.μ. και στη συνέχεια για βράδυ πηγαίνει στο κρεβάτι στις 7:15 μ.μ. Πόσες ώρες μένει ξύπνιος όλη την ημέρα;